




نام خانوادگی: نام پدر: شنبه: سوالات امتحان درس مطالعات اجتماعی پایه هفتم		باسمه تعالی اداره کل آموزش و پرورش فارس مدیریت آموزش و پرورش شهرستان آباده کارشناسی سنجش و ارزشیابی تحصیلی (مهر آموزشگاه)		نوبت امتحانی: دیماه تاریخ امتحان: ۱۴۰۱/۱۰/۱۵ ساعت شروع: مدت امتحان: ۴۵ دقیقه اعداد اوراق: ۲ برگ	
نام و نام خانوادگی دبیر: تاریخ و امضاء: نمره به عدد: نمره به حروف:	نام و نام خانوادگی دبیر: تاریخ و امضاء: نمره به عدد: نمره به حروف:	نام و نام خانوادگی دبیر: تاریخ و امضاء: نمره به عدد: نمره به حروف:	نام و نام خانوادگی دبیر: تاریخ و امضاء: نمره به عدد: نمره به حروف:	ردیف	
سوالات تستی		نمره		ردیف	
موارد زیر کدام صحیح و کدام غلط است.		ص		غ	
۱ مصرف کننده فقط حقوقی دارد و مسئولیتی ندارد.		<input type="checkbox"/>		<input type="checkbox"/>	
۲ اختلاف دمای شب و روز در ناحیه معتدل و نیمه خشک کوهستانی زیاد است.		<input type="checkbox"/>		<input type="checkbox"/>	
۳ ایران در جنوب غربی قاره آسیا واقع شده است.		<input type="checkbox"/>		<input type="checkbox"/>	
۴ فعالیت اقتصادی جزء ویژگی‌های طبیعی یک مکان هستند.		<input type="checkbox"/>		<input type="checkbox"/>	
گزینه صحیح را با علامت (X) مشخص کنید.		۵ ایجاد فرهنگ سراها و خانه‌های سلامت از وظایف کدام موسسه است.		<input type="checkbox"/> الف) شهرداری <input type="checkbox"/> ب) استانداری <input type="checkbox"/> ج) بیمه <input type="checkbox"/> د) جمعیت هلال احمر	
۶ برای تهیه نقشه‌های جغرافیایی از چه ابزاری استفاده می‌شود.		<input type="checkbox"/> الف) عکس‌های معمولی <input type="checkbox"/> ب) رایانه و اینترنت <input type="checkbox"/> ج) عکس‌های هوایی <input type="checkbox"/> د) کره جغرافیایی		۷ کدام یک از بیمه‌ها طبق قانون توسط افراد انجام می‌گیرد؟	
<input type="checkbox"/> الف) مرکزی <input type="checkbox"/> ب) اجباری <input type="checkbox"/> ج) اختیاری <input type="checkbox"/> د) خدمات درمانی		۸ تهیه و تصویب قوانین کشور در چارچوب قانون اساسی از وظایف کدام قوه است؟		<input type="checkbox"/> الف) قوه مجریه <input type="checkbox"/> ب) قوه قضائیه <input type="checkbox"/> ج) قوه مقننه <input type="checkbox"/> د) خدمات درمانی	
۹ برپایی چادرهای اسکان موقت به هنگام وقوع سیل یا زلزله از اقدامات کدام موسسه است؟		<input type="checkbox"/> الف) اورژانس <input type="checkbox"/> ب) نیروی انتظامی <input type="checkbox"/> ج) آتش‌نشانی <input type="checkbox"/> د) جمعیت هلال احمر		۱۰ مهم‌ترین حق طبیعی همه انسان‌ها کدام است؟	
<input type="checkbox"/> الف) آزادی <input type="checkbox"/> ب) کار و تلاش <input type="checkbox"/> ج) حیات <input type="checkbox"/> د) ازدواج		۳		۳	

نوبت امتحانی: دیماه تاریخ امتحان: ۱۴۰۱/۱۰/۱۵ ساعت شروع: مدت امتحان: ۴۵ دقیقه اعداد اوراق: ۲ برگ	باسمه تعالی اداره کل آموزش و پرورش فارس مدیریت آموزش و پرورش شهرستان آباده کارشناسی سنجش و ارزشیابی تحصیلی (مهر آموزشگاه)	نام: نام خانوادگی: نام پدر: شعبه: سوالات امتحان درس مطالعات اجتماعی پایه هفتم
۴/۵	جاهای خالی را با کلمات مناسب پر کنید. ۱۱ بررسی کیفیت کالاهایی که تولید می شوند به عهده سازمان است ۱۲ هرگاه مقررات به وسیله یک نهاد دارای صلاحیت مجلس تصویب شود نام دارد ۱۳ یکی از چیزهایی که حیات و زیستگاه را تهدید می کند است. ۱۴ مانند دیواری دریای خزر را از قسمت داخلی کشور جدا می کند که رشته کوه نام دارد . ۱۵ مهمترین عاملی که موجب شده است که گونه ها برای همیشه از بین برود فعالیت نادرست بوده است ۱۶ مهمترین عناصر آب و هوا و است. ۱۷ بیمه یک قرارداد بین و است. ۱۸ جمعیت هلال احمر در شرایط عادی برای و همچنین تلاش می کند.	
۱	۱۹ دانش جغرافیا چه کمکی به ما می کند؟	
۱	۲۰ دامنه های شمالی البرز و جنوبی البرز از نظر پوشش گیاهی را باهم مقایسه کنید ؟	
۱	۲۱ در نظر بگیرید شما یک محیط بان هستید. دو مورد از وظایف خود را بنویسید؟	
۰/۵	۲۲ فروشنده ای که می خواهد کسب حلال داشته باشد باید چه کار کند؟	
۰/۵	۲۳ منظور از شکرگزار بودن یعنی چه؟	
۱	۲۴ ناحیه گرم و شرجی سواحل جنوب از کجا تا کجا کشیده شده است ؟	
۱	۲۵ دو مورد از مناطق حفاظت شده در کشور عزیزمان را نام ببرید؟	
۱/۵	۲۶ مشاغل اقتصاد در سه گروه طبقه بندی می شوند نام ببرید؟ (۱) (۲) (۳)	
۱/۵	۲۷ کدام یک از عوامل تولید مهم ترند؟ چرا؟	
۱/۵	۲۸ هر یک از علائم زیر چیست زیر آن بنویسید.   	

نام خانوادگی: بارم جفتم نام پدر: شعبة: سوالات امتحان درس مطالعات اجتماعی پایه هفتم		باسمه تعالی اداره کل آموزش و پرورش فارس مدیریّت آموزش و پرورش شهرستان آباده دبیرستان دخترانه هیات تحصیلی کارشناسی پیش‌دانشگاهی و ارزشیابی تحصیلی مرکز آموزشگاه ل... ۱۳۹۷		نوبت امتحانی: دیماه تاریخ امتحان: ۱۴۰۱/۱۰/۱۵ ساعت شروع: مدت امتحان: ۴۵ دقیقه اعداد اوراق: ۲ برگ	
نام و نام خانوادگی دبیر:	نمره به عدد:	نمره به حروف:	نام و نام خانوادگی دبیر:	نمره به عدد:	نمره به حروف:
تاریخ و امضاء:	تاریخ و امضاء:	تاریخ و امضاء:	تاریخ و امضاء:	تاریخ و امضاء:	تاریخ و امضاء:
ردیف	سوالات تستی				نمره
۱	موارد زیر کدام صحیح و کدام غلط است. مصرف‌کننده فقط حقوقی دارد و مسئولیتی ندارد.				
۲	اختلاف دمای شب و روز در ناحیه معتدل و نیمه خشک کوهستانی زیاد است.				
۳	ایران در جنوب غربی قاره آسیا واقع شده است.				
۴	فعالیت اقتصادی جزء ویژگی‌های طبیعی یک مکان هستند.				
۵	گزینه صحیح را با علامت (X) مشخص کنید. ایجاد فرهنگ سراها و خانه‌های سلامت از وظایف کدام موسسه است.				
۶	برای تهیه نقشه‌های جغرافیایی از چه ابزاری استفاده می‌شود.				
۷	کدام یک از بیمه‌ها طبق قانون توسط افراد انجام می‌گیرد؟				
۸	تهیه و تصویب قوانین کشور در چارچوب قانون اساسی از وظایف کدام قوه است؟				
۹	برپایی چادرهای اسکان موقت به هنگام وقوع سیل یا زلزله از اقدامات کدام موسسه است؟				
۱۰	مهم‌ترین حق طبیعی همه انسان‌ها کدام است؟				

نام خانوادگی: نام پدر: شعبه:	باسمة تعالی اداره کل آموزش و پرورش فارس مدیریت آموزش و پرورش شهرستان آباده کارشناسی سنجش و ارزشیابی تحصیلی (مهر آموزشگاه)	نوبت امتحانی: دیماه تاریخ امتحان: ۱۴۰۱/۱۰/۱۵ ساعت شروع: مدت امتحان: ۴۵ دقیقه اعداد اوراق: ۲ برگ
------------------------------------	---	---

سوالات امتحان درس مطالعات اجتماعی پایه هفتم

۴/۵	جاهای خالی را با کلمات مناسب پر کنید. بررسی کیفیت کالاهایی که تولید می شوند به عهده سازمان است هرگاه مقررات به وسیله یک نهاد دارای صلاحیت مجلس تصویب شود نام دارد یکی از چیزهایی که حیات و زیستگاه را تهدید می کند است. مانند دیواری دریای خزر را از قسمت داخلی کشور جدا می کند که رشته کوه نام دارد. مهمترین عاملی که موجب شده است که گونه ها برای همیشه از بین بروند نادرست بوده است مهمترین عناصر آب و هوا و است. بیمه یک قرارداد بین و است. جمعیت هلال احمر در شرایط عادی برای و تلاش می کند.	۱۱ ۱۲ ۱۳ ۱۴ ۱۵ ۱۶ ۱۷ ۱۸
۱	دانش جغرافیا چه کمکی به ما می کند؟	۱۹
۱	دامنه های شمالی البرز و جنوبی البرز از نظر پوشش گیاهی را باهم مقایسه کنید؟	۲۰
۱	در نظر بگیرید شما یک محیط بان هستید. دو مورد از وظایف خود را بنویسید؟	۲۱
۰/۱۵	فروشنده ای که می خواهد کسب حلال داشته باشد باید چه کار کند؟	۲۲
۰/۱۵	منظور از شکرگزار بودن یعنی چه؟	۲۳
۱	ناحیه گرم و شرجی سواحل جنوب از کجا تا کجا کشیده شده است؟	۲۴
۱	دو مورد از مناطق حفاظت شده در کشور عزیزمان را نام ببرید؟	۲۵
۱/۵	مشاغل اقتصاد در سه گروه طبقه بندی می شوند نام ببرید؟	۲۶
۱/۵	کدام یک از عوامل تولید مهم ترند؟ چرا؟	۲۷
۱/۵	هر یک از علایم زیر چیست زیر آن بنویسید.	۲۸
۱/۵	